

1. سارا یک تراش را 450 تومان خرید و 500 تومان فروخت .

الف) اگر او 5 تراش بفروشد ، چقدر سود می کند؟

ب) او چند تراش باید بفروشد تا 150 تومان سود کند ؟

ج) او چند تراش باید بفروشد تا بتواند با سود آن برای دوستش یک تراش بخرد؟

تراش									
سود									

2. بزرگترین و کوچکترین عدد چهار رقمی که یکان آن 0 و دهگان آن 3 و صدگان آن 7 و هزارگان آن 2 باشد را به حروف و عدد بنویس .

بزرگترین : عدد : ..... حروف : .....

کوچکترین : عدد : ..... حروف : .....

3. اگر یک درهم کشوری 500 تومان ارزش داشته باشد . 5 درهم بیشتر است یا 2497 تومان؟ (رسم جدول)

4. کامل کن : 3 متر و 75 سانتی متر یعنی ..... متر و ..... متر .

6700 گرم یعنی ..... کیلوگرم و ..... گرم . 350 تومان همان ..... ریال است .

5. فرهاد یک خط کش به قیمت 220 تومان و یک مداد تراش به قیمت 425 تومان خرید. او یک اسکناس 1000 تومانی به فروشنده داد . فروشنده چند تومان به فرهاد پس داد ؟

6. مریم ساعت 5 بعد از ظهر به بازار رفت و ساعت 21 برگشت . او چند ساعت در بازار بوده است ؟

7. یک مثلث بکش که یک زاویه راست و یک دایره بکش که شعاع آن 1 سانتی باشد و قطر دایره را مشخص کن.

$$\frac{2}{4} = \frac{4}{8}$$



8. تساوی زیر را روی شکل نشان بده.




9. عددهای زیر را با حذف رقم یکان و دهگان ، به صورت تقریبی بنویس .

3560 :

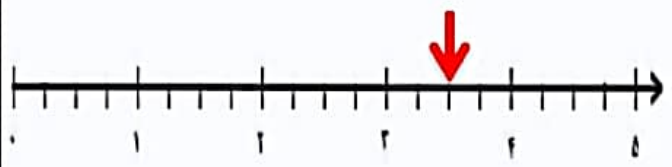
9871 :

3243 :

10. جاهای خالی را با عدد مناسب و شکل ها را با رنگ کردن کامل کنید .



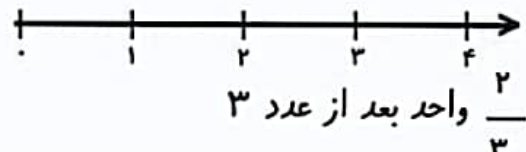
..... واحد و ..... واحد



..... واحد و ..... واحد



۲ واحد و  $\frac{4}{6}$  واحد



11. امیر  $\frac{4}{8}$  و رضا  $\frac{6}{8}$  از پولشان را صدقه داده اند . با کشیدن شکل دو کسر را مقایسه کنید .

ردیف	توضیحات	خیلی خوب	خوب	قابل قبول	نیازمند تلاش
1	کسب مهارت در شمارش اعداد به صورت های مختلف ( ترتیبی ، چندتا چندتا )				
2	درک اعداد چهار رقمی ، کسب مهارت در خواندن و نوشتن اعداد چهار رقمی				
3	کسب مهارت در تبدیل واحدها				
4	توانایی خواندن و تبدیل ساعت				
5	درک مفهوم کسر و اعداد کسری				
6	کسب مهارت در نمایش کسر و مقایسه کسرها				
7	توضیحات:				