

نام و نام خانوادگی :

ریاضی دوم فصل (۱-۲-۳)




۱- با دو کارت عدد دو رقمی بساز.



با عددهای ۸ و ۶ و ۲ عدد دورقمی بساز ؟

۲- بزرگ ترین عدد دورقمی ..... است .



یکان عددی ۷ و دهگان آن ۳ می باشد آن عدد چیست ؟.....

یکان عددی ۹ و دهگان آن ۵ تا کمتر می باشد آن عدد چیست؟.....

۶ دسته ده تایی منهای ..... دسته ده تایی می شود ۲ دسته ده تایی

۲ دسته ده تایی به اضافه ی ..... دسته ده تایی می شود ۸ دسته ده تایی

۳- حاصل را به دست آورید

$10 + 20 + 10 + 5 = \dots$

$90 - 60 = \dots$

$30 +$

$40 + 10 + 10 + 10 + 5 = \dots$

$70 - 30 = \dots$

$30 + 20 + 4 + 10 + 5 = \dots$

$60 - 20 = \dots$

۴- الگوها را ادامه دهید

$10 - 20 - 30 - \dots - \dots - \dots - \dots$

$5 - 10 - \dots - \dots - 25 - \dots - \dots$

$8 - 16 - \dots - \dots - \dots - \dots$

$83 - 85 - 87 - \dots - \dots - \dots$

۵- با حروف بنویس.

-	۵	۳	۲
۷			
۱۳			

+	۳	۴	۵	۶
۵				
۸				

۸۶	_____
۳۹	_____

۶- جواب را به صورت تقریبی به دست آورید.

$63 \rightarrow \dots$

$77 \rightarrow \dots$

$\begin{array}{r} + \\ 25 \end{array} \rightarrow \dots$

$\begin{array}{r} - \\ 44 \end{array} \rightarrow \dots$

۷- جمع و تفریق ها را با استفاده به صورت فرایندی حل کنید .

۶۸

۴۳

+

۷۴

۲۳



۸- نام اشکال را بنویس

نام :

گوشه :

ضلع :

.....

.....

.....

.....

.....

.....

.....

.....

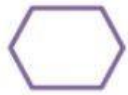
.....

.....


.....

.....

۹- تقارن شکل هارا با شابلون بکش



.....



۱۰- شباهت : .....

تفاوت : .....



۱۱- به قسمت های مساوی تبدیل کن

۳

۶

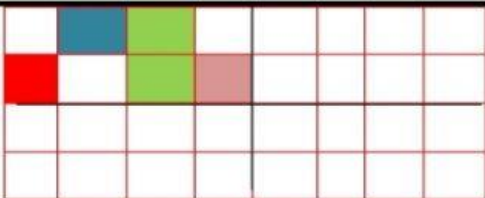
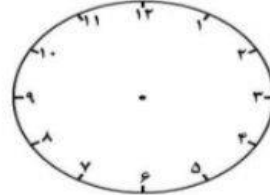
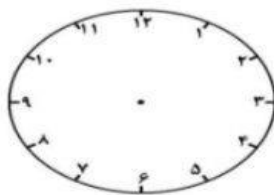
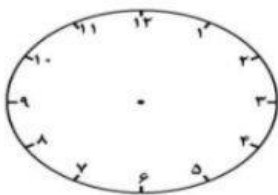
۸

۴

۸:۲۰

۱۲:۴۵

۱۲- ساعت ها را نشان بده (سه ونیم)



۱۳- تقارن دیگر را زنگ کن



خسته نباشید