

مدت زمان آزمون



پیش آزمون



آزمون تبار پیشرفت تحصیلی

شماره سوالات	تعداد	نام درس
۱-۵	۵	قرآن و هدیه های آسمان
۶-۱۰	۵	مطالعات اجتماعی
۱۱-۲۰	۱۰	فارسی
۲۱-۳۰	۱۰	علوم
۳۱-۴۰	۱۰	ریاضی

تاریخ برگزاری: ۱۴۰۱ / ۷ / ۱۷

تعداد سوالات: ۴۵

زمان شروع آزمون: ۱۰:۳۰ صبح

پنجم دبستان

سال تحصیلی ۱۴۰۱-۱۴۰۲

- ۱- معنای کلمه «الَّذِينَ» کدام است؟
 (۱) نماز (۲) کسانی که (۳) آخرت (۴) کسی که
- ۲- فرشته‌ی وحی خطاب به چه کسی گفت که «خدا تو را به فرزندی بشارت می دهد که نامش یحیی است.»
 (۱) حضرت ابراهیم (۲) حضرت عیسی (۳) حضرت زکریا (۴) حضرت یعقوب
- ۳- بنی اسرائیل چه کسانی بودند؟
 (۱) پیروان حضرت محمد (ص) (۲) پیروان حضرت موسی (ع) (۳) پیروان حضرت عیسی (ع) (۴) یاران حضرت ابراهیم (ع)
- ۴- مهم ترین و بزرگ ترین مسجد اسلامی چه نام دارد و در کجا واقع است؟
 (۱) قبا در مدینه (۲) مسجد النبی در مدینه (۳) مسجد الاقصی در بیت المقدس (۴) مسجد الحرام در مکه
- ۵- آیه‌ی «وَإِن عَلَيْكُمْ لِحَافِظِينَ كِرَامًا كَاتِبِينَ يَعْلَمُونَ مَا تَفْعَلُونَ» در مورد چه چیزی است؟
 (۱) کرامت و بزرگواری انسان (۲) محافظت کردن از دین اسلام (۳) فرشتگان ثبت کننده اعمال (۴) نگه داری ایمان در سختی‌ها

- ۶- اداره روستا به عهده کدام یک از نهادهای زیر می باشد؟
 (۱) شهرداری (۲) استانداری (۳) آموزش و پرورش (۴) شورای اسلامی
- ۷- پرستش‌گاه مشهور و عظیم تمدن ایلام چه نام دارد؟ و در کدام استان قرار دارد؟
 (۱) پاسارگاد - فارس (۲) چغازنبیل - خوزستان (۳) چغازنبیل - فارس (۴) پاسارگاد - خوزستان
- ۸- پهناورترین جلگه‌ی ایران کدام است؟
 (۱) گیلان (۲) مغان (۳) خوزستان (۴) مازندران
- ۹- تمام ماه‌های کدام فصل، همیشه سی روز است؟
 (۱) زمستان (۲) پاییز (۳) بهار (۴) تابستان
- ۱۰- کدام دسته از مناسبت‌های ملی است؟
 (۱) عید فطر - عید نوروز (۲) عید قربان - عید غدیر (۳) عید نوروز - ۲۲ بهمن (۴) عید فطر - عید قربان

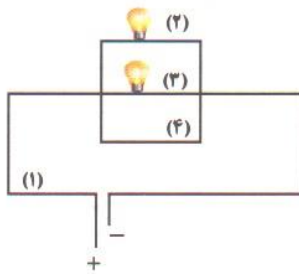
- ۱۱- معنی کدام کلمه مخالف «استقبال» است؟
 (۱) بدرقه (۲) پیشواز (۳) مستقل (۴) پشتاز
- ۱۲- کدام گزینه با بقیه فرق دارد؟
 (۱) خودخواه (۲) خودبین (۳) خوددار (۴) خودپسند
- ۱۳- در کدام یک از جمله‌های زیر «حرف ربط» به کار رفته است؟
 (۱) کم کم به آن روز نزدیک می شدیم.
 (۲) صبح آن روز، زودتر از همیشه بیدار شدم.
 (۳) صدای مردم از همه جا به گوش می رسید.
 (۴) در بدن من هیچ عیبی نیست اما خوب می دانم، جان خود را در تیر خواهیم گذاشت.
- ۱۴- اگر کلمه‌های زیر را به ترتیب حروف الفبا مرتب کنیم، آخرین کلمه کدام گزینه است؟
 «کیسه ، زنبور ، عصا ، چرخ»
 (۱) زنبور (۲) چرخ (۳) کیسه (۴) عصا
- ۱۵- کدام دسته از کلمه‌های زیر، هم خانواده هستند؟
 (۱) شهدا - شاهد - مشهور (۲) شعر - شاعر - شهود (۳) مظلوم - ظلم - ظالم (۴) قصد - مقصود - قصور
- ۱۶- با توجه به معنی، املا‌ی کدام کلمه درست است؟
 (۱) صواب: درست (۲) ثواب: راست (۳) اثاث: بنیان (۴) برخواست: بلند شد
- ۱۷- مفهوم ضرب المثل «رطب خورده، منع رطب، کی کند» چیست؟
 (۱) کسی که چیزی می خورد، نمی خواهد دیگران هم بخورند.
 (۲) کسی که کاری انجام می دهد، می خواهد دیگران هم آن کار را انجام دهند.
 (۳) کسی که خرما می خورد، می خواهد دیگران هم بخورند.
 (۴) کسی که کاری را انجام داده است، چگونه می تواند دیگران را از آن کار بازدارد.

- ۱۸- بیت "گفت طوطی را، چه خواهی ارمغان" کارمت از خطه‌ی هندوستان؟ از چند جمله تشکیل شده است؟
 (۱) سه (۲) یک (۳) چهار (۴) دو
- ۱۹- شعر «همای رحمت» از کیست؟
 (۱) پروین دولت آبادی (۲) حبیب یغمایی (۳) محمدحسین بهجت تبریزی (۴) شکوه قاسم نیا
- ۲۰- در کدام یک از کلمه های زیر «ان» نشانه‌ی جمع می باشد؟
 (۱) درختان (۲) ارغوان (۳) ارمغان (۴) اصفهان

علوم ۱۰ سؤال

رتبه

- ۲۱- کدام یک از مخلوهای زیر، محلول است؟
 (۱) سرکه در آب (۲) ماسه در آب (۳) نشاسته در آب (۴) آجیل
- ۲۲- تبدیل انرژی در کدام وسیله، مانند تبدیل انرژی در چرخ گوشت است؟
 (۱) اتو (۲) بخاری برقی (۳) لامپ روشن (۴) هم زن برقی
- ۲۳- با خاموش شدن کدام لامپ، لامپ‌های دیگر نیز خاموش می شوند؟



- (۱) ۲
 (۲) ۴
 (۳) ۱
 (۴) ۳
- ۲۴- اگر یک تکه مس داغ را در آب سرد بیاندازیم، چه اتفاقی می افتد؟

- (۱) گرما از مس به آب منتقل شده و دمای آب بیشتر از مس می شود.
 (۲) دمای آب از مس بیشتر می شود، چون گرما می گیرد.
 (۳) گرما از مس به آب انتقال می یابد و این انتقال گرما تا زمانی ادامه دارد که مس و آب هم دما شوند.
 (۴) مس چون رسانای بهتری است، گرم می ماند و سرد نمی شود.

- ۲۵- بزرگترین سیاره‌ی منظومه‌ی شمسی بین کدام دو سیاره قرار دارد؟

- (۱) مشتری - اورانوس (۲) مریخ - زحل (۳) زحل - نپتون (۴) زهره - مریخ

- ۲۶- کدام یک از اجسام فلزی زیر جذب آهنربا می شوند؟

- (۱) ورق آلومینیومی (۲) گیره کاغذ (۳) سیم مسی (۴) سکه

- ۲۷- مهم ترین ویژگی سنگ های رسوبی کدام است؟

- (۱) بر اثر گرما و فشار زیاد به وجود می آیند.
 (۲) به حالت مذاب هستند.
 (۳) از ترکیب چند سنگ به وجود می آیند.
 (۴) لایه لایه هستند

- ۲۸- کدام مورد اکسیژن را به تمام قسمت های بدن می رساند؟

- (۱) خون (۲) نای (۳) شش (۴) قلب

- ۲۹- کدام مورد زیر از جمله گیاهان دو لپه به شمار می رود.

- (۱) برنج (۲) ذرت (۳) کدو (۴) سوسن

- ۳۰- مجموع پاهای ۲ عدد زنبور، یک عدد عنکبوت و یک عدد شته چند تا است؟

- (۱) ۲۰ (۲) ۲۶ (۳) ۲۴ (۴) ۲۸

ریاضی ۱۰ سؤال

رتبه

- ۳۳- پانزدهمین شکل این الگو از چند دایره تشکیل شده است؟



(۱)

۲۲(۴)



(۲)

۳۱(۳)



(۳)

۲۳(۲)

۳۰(۱)

۳۲- امید ۱۵۰۰۰ تومان پول دارد، علی از سه برابر پول امید ۲۰۰۰ تومان کمتر پول دارد علی چند ریال پول دارد؟

۴۳۰۰۰۰ (۴)

۴۵۰۰۰۰ (۳)

۳۰۰۰۰۰ (۲)

۳۰۰۰۰ (۱)

۳۳- حامد تصمیم گرفت اتاقش را رنگ کند. او $\frac{2}{5}$ اتاقش را دیروز و $\frac{1}{2}$ باقی مانده آن را امروز رنگ کرده است. چه کسری از اتاق حامد رنگ نشده باقی مانده است؟

$\frac{9}{10}$ (۴)

$\frac{7}{10}$ (۳)

$\frac{1}{10}$ (۲)

$\frac{3}{10}$ (۱)

۳۴- کدامیک از اعداد زیر نمی تواند باقی مانده تقسیم یک عدد بر ۳ باشد؟

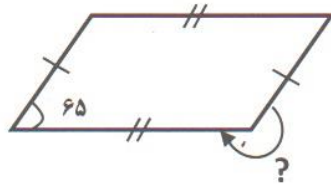
۲ (۴)

۱ (۳)

۳ (۲)

صفر (۱)

۳۵- اندازه‌ی زاویه خواسته شده را محاسبه نمایید.



۱۱۵ (۱)

۲۱۵ (۲)

۲۴۵ (۳)

۲۹۵ (۴)

۳۶- سهیل یک ربع قبل از ساعت ۵ بعد از ظهر شروع به مطالعه کرد و بعد از ۵۰ دقیقه مطالعه، دست از مطالعه کردن کشید. او چه ساعتی از مطالعه کردن دست کشیده است؟

۱۷:۳۵' (۴)

۵:۵۰' (۳)

۱۷:۵۰' (۲)

۱۸:۵' (۱)

۳۷- برادران احمدی امسال ۱۷۲ کیسه‌ی ۵۰ کیلویی برنج برداشت کردند، اگر برنج‌ها را بین ۴ نفر به طور مساوی تقسیم کنند به هر نفر چند کیلو برنج خواهد رسید؟

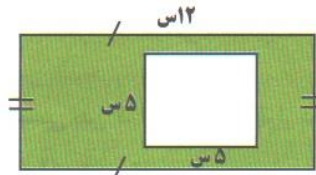
۶۸۸ (۴)

۲۵۰۰ (۳)

۲۱۵۰ (۲)

۱۵۰۰ (۱)

۳۸- اگر محیط مستطیل مقابل ۳۶ سانتی متر باشد، مساحت قسمت رنگ شده چند سانتی متر مربع است؟



۴۷ (۱)

۵۹ (۲)

۷۲ (۳)

۶۰ (۴)

۳۹- کدام یک از اعداد زیر از بقیه بزرگتر است؟

۰/۴ (۴)

$\frac{1}{5}$ (۳)

$\frac{3}{20}$ (۲)

$\frac{1}{4}$ (۱)

۴۰- با توجه به شکل روبه رو، احتمال اینکه چرخنده روی عدد زوج بایستد چقدر است؟



(۱) به احتمال برابر

(۲) به احتمال کمتر

(۳) به طور حتم اتفاق نمی افتد

(۴) به احتمال بیشتر

موفق باشید!

کارشناسی دبستان و پیش دبستانی