

حتماً و فوق خواهی نوشت:

۱- جاهای خالی را کامل کنید.

☆ ۴ هزار تایی و ۶ یکی و ۹ ده تایی و ۵ صد تایی می شود

☆ بهترین وسیله برای کشیدن دایره است.

☆ ۱۵۰۲ به حروف می شود

☆ مکعب از مربع درست شده است.

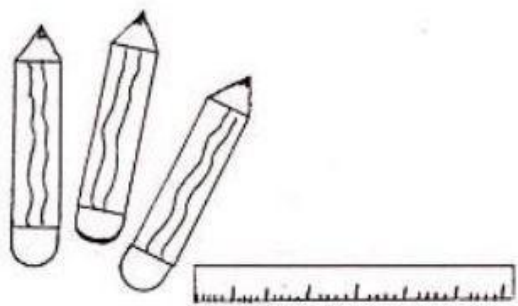
☆ ۱۲۸ سانتی متر متر و سانتی متر است.

☆ با می توانیم زاویه‌ی راست را تشخیص دهیم.

☆ ۴۵۰۰ ریال همان تومان است.

☆ کسر $\frac{۱}{۴}$ را و کسر را نیم می گوئیم.

☆ ۷۷۰۰ گرم یعنی کیلوگرم و گرم.

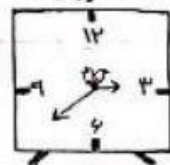


۲- الگوهای عددی زیر را ادامه دهید.

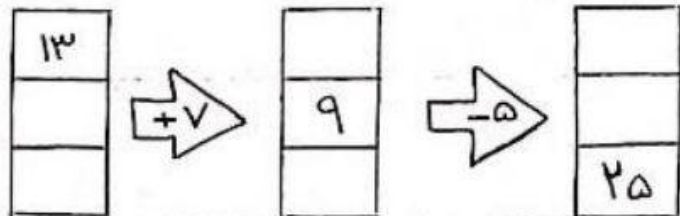
۹ - ۱۸ - ۲۷ - - - - -
 ۱۱۰۰ - ۲۱۰۰ - ۳۱۰۰ - - - - -
 - - - - - ۵۶۰۰ - ۵۸۰۰ - ۶۰۰۰

۳- جدول زیر را کامل کنید.

زمان	۱۵		بیست و ربع	۲۳:۳۰
بعد از ظهر		۲:۴۵		ده و نیم



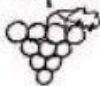
۴- در جاهای خالی عدد مناسب بگذارید.



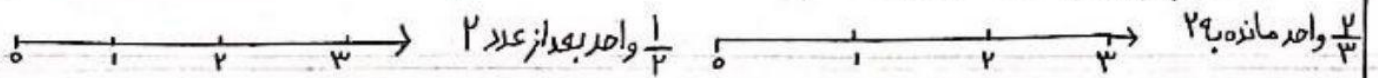
یکان | دهگان | صدگان | هزارگان

۱۰۰۰	۱۰۰۰	۱۰۰۰	
۱۰۰	۱۰۰	۱۰	۱۰
۱۰	۱۰	۱	۱

۵- تمام عددهای سه رقمی که رقم صدگان آن ۸ و ۲، رقم دهگان آن ۵ و ۰، رقم یکان آن ۴ باشد را بنویسید.



۶- کسرهای زیر را روی محور نشان بده.



۷- کسرهای زیر را با هم مقایسه کنید.

$\frac{6}{7} \bigcirc \frac{4}{7}$ \otimes $1 \bigcirc \frac{3}{3}$ \otimes $\frac{1}{5} \bigcirc \frac{1}{9}$ \otimes $\frac{4}{5} \bigcirc \frac{2}{5}$

3 واحد و $\frac{4}{5}$ واحد \bigcirc 3 واحد و $\frac{1}{5}$ واحد \otimes 3 واحد و $\frac{2}{3}$ واحد \bigcirc 4 واحد و $\frac{1}{4}$ واحد

۸- امیر $\frac{4}{8}$ و رضا $\frac{2}{4}$ از پولشان را صدقه داده اند. با کشیدن شکل، در کسر را مقایسه کنید.



۹- جدول زیر را کامل کنید.

توضیح عبارت ضرب	ضرب	الگو (شمارش چند تا چند تا)	جمع	شکل
۴ دسته ۳ تایی می شود.....				
			$4+4+4+4+4$	

